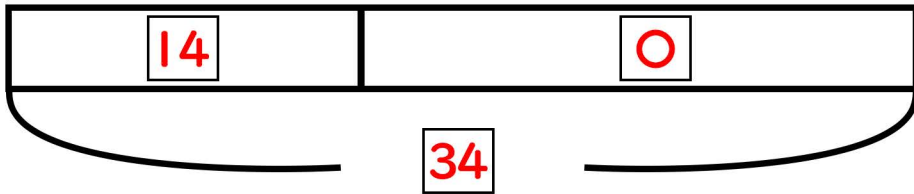


# 図をつかって考えよう①

名前

- (1) 砂場で14人の子どもが遊んでいます。そこへすべり台から何人かがやってきました。今、砂場には34人で遊んでいます。滑り台から砂場に来たのは何人でしょうか？



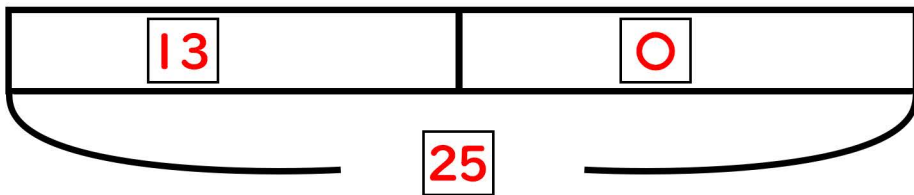
【しき】

【答え】

$$34 - 14 = 20$$

20人

- (2) 目黒くんはカードを13枚持っています。さらに先生からカードをもらいました。手元にあるカードを数えたら25枚ありました。先生からもらったカードは何枚ですか？



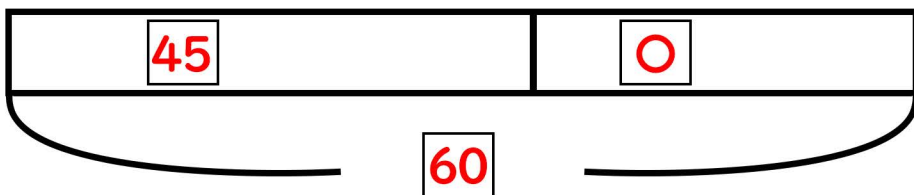
【しき】

【答え】

$$25 - 13 = 12$$

12枚

- (3) バケツに45dlの水が入っています。そこに追加で水を入れました。バケツの中を確認したら中身は60dlになりました。バケツに追加で入れた水は何dlですか？



【しき】

【答え】

$$60 - 45 = 15$$

15dl