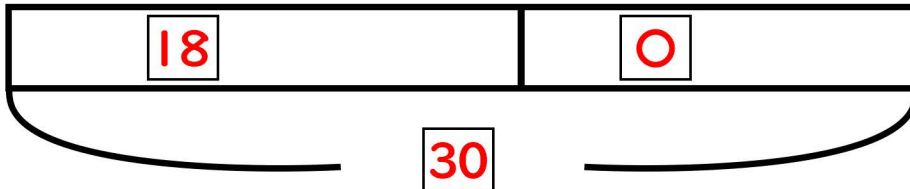


図をつかって考えよう②

名前

- (1) 本だなにマンガが18さつあります。お姉ちゃんがその本だなに小説を何さつかしまいました。本だなの本を数えたら30さつありました。お姉ちゃんは本だなに小説を何さつかしまいましたか？



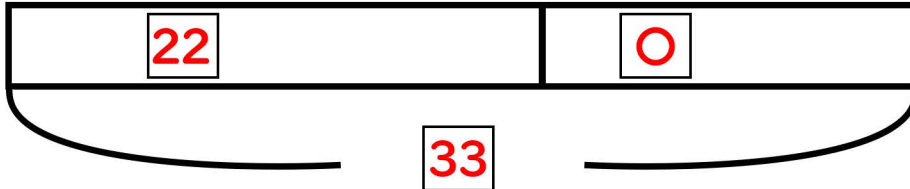
【しき】

$$30 - 18 = 12$$

【答え】

12さつ

- (2) ある日。久保さんは魚を22匹釣りました。翌日も釣りに行き何匹か釣りあげました。この二日間で合計33匹釣りました。二日目は何匹釣りましたか？



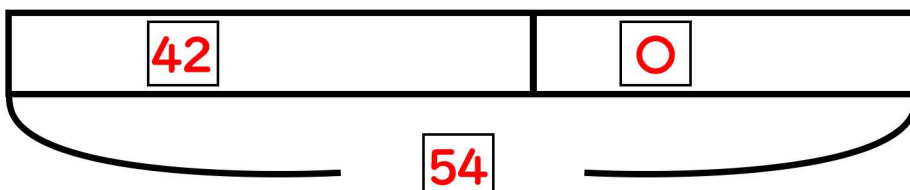
【しき】

$$33 - 22 = 10$$

【答え】

10匹

- (3) ニンジンが袋に42本入っています。多田くんが袋に何本かのニンジンを入れました。今、袋の中には54本のニンジンがあります。多田くんは何本のニンジンをもってきましたか？



【しき】

$$54 - 42 = 12$$

【答え】

12本