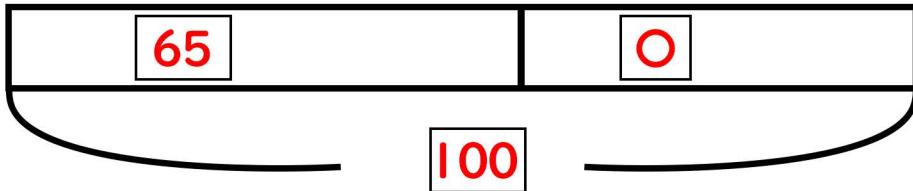


図をつかって考えよう③

- (1) 公園で100人が遊んでいます。1時間後何人かがお家へ帰りました。そして、公園には65人がいます。お家に帰ったのは何人でしょうか？




【しき】

$$100 - 65 = 35$$

【答え】

35人

- (2) 体育館にマシュマロが500こあります。2年生の生徒たちがやってきてどこかマシュマロを食べました。次に1年生が来たときは150こしかありませんでした。2年生はマシュマロをどこ食べましたか？



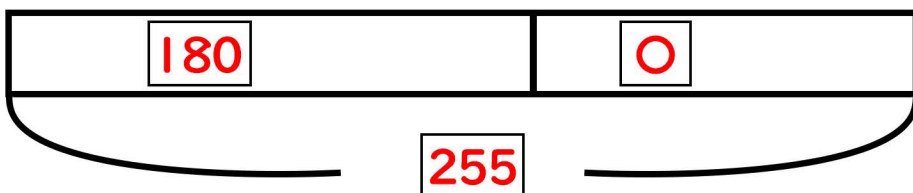
【しき】

$$500 - 150 = 350$$

【答え】

350こ

- (3) 山に180本の木が生えています。今年の夏に何本かの木を植えました。植えた後に木を数えてみると、255本になっていました。今年の夏に植えた木は何本ですか？



【しき】

$$255 - 180 = 75$$

【答え】

75本