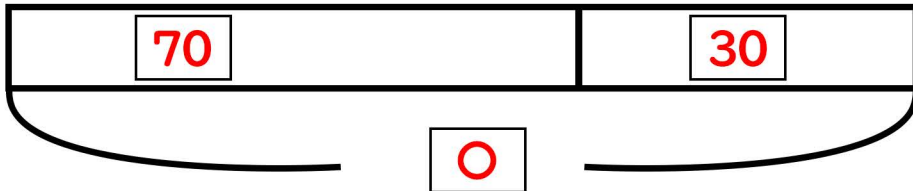


図をつかって考えよう④

名前

- (1) アメが何こかあります。70人に1つずつくばったのでのこりは30こになりました。
はじめにアメは何こありましたか？



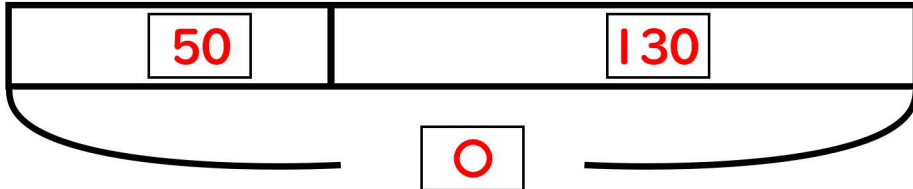
【しき】

$$70 + 30 = 100$$

【答え】

100こ

- (2) 親子丼が何こかはこばれてきました。50人が親子丼を食べたので残りは130こになりました。食べ始める前には何この親子丼がありましたか？



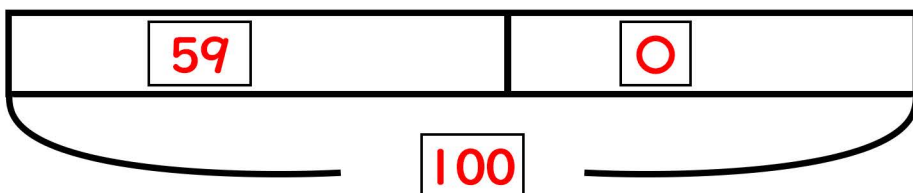
【しき】

$$50 + 130 = 180$$

【答え】

180こ

- (3) まさるくんは、石を59こポケットに入れていました。さらにポケットに石を入れました。お家につくとポケットに100この石がありました。まさるくんがつかいで入れた石は何こでしょう。



【しき】

$$100 - 59 = 41$$

【答え】

41こ