

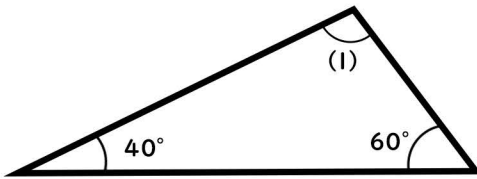
角の大きさ ②

名前

次の角の大きさを求めましょう

※問題は計算で角度を求めるように作成しているため、分度器で測ると数字が違います。

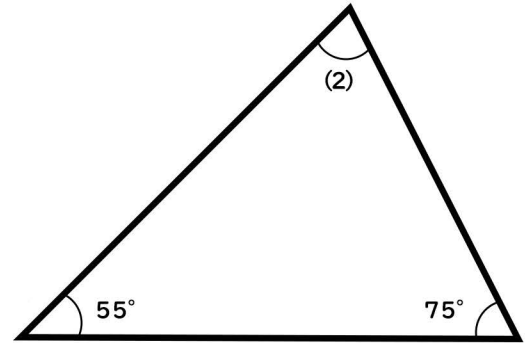
(1)



$$180^\circ - (60^\circ + 40^\circ) = 80^\circ$$

80°

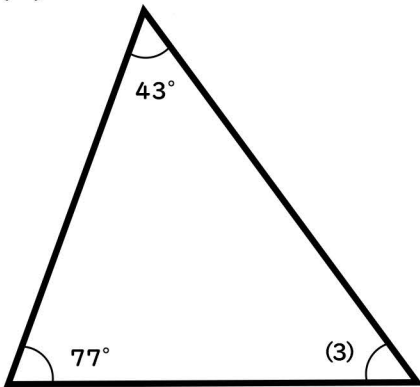
(2)



$$180^\circ - (55^\circ + 75^\circ) = 50^\circ$$

50°

(3)



$$180^\circ - (77^\circ + 43^\circ) = 60^\circ$$

60°

(4)



$$180^\circ - (22^\circ + 11^\circ) = 147^\circ$$

147°