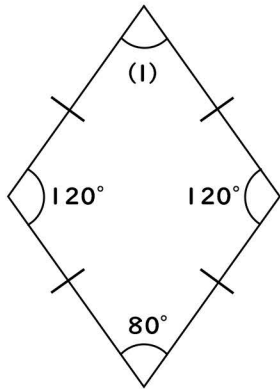


角の大きさ ⑦

次の角の大きさを求めましょう

※問題は計算や定理などで角度を求めるように作成しているため、分度器で測ると数字が違います。

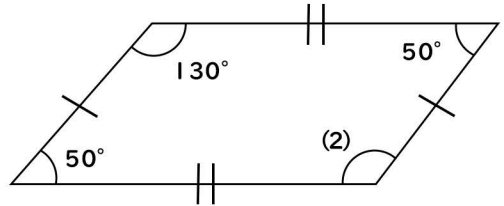
(1)



$$360^\circ - (120^\circ + 120^\circ + 60^\circ) = 60^\circ$$

60°

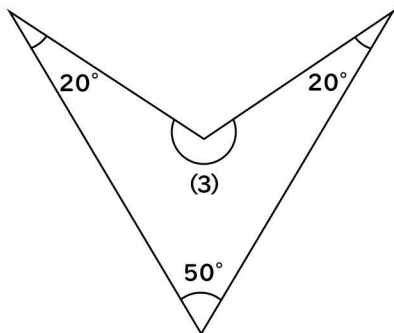
(2)



$$360^\circ - (70^\circ + 80^\circ + 50^\circ) = 160^\circ$$

160°

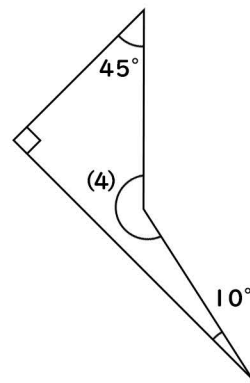
(3)



$$360^\circ - (50^\circ + 20^\circ + 20^\circ) = 270^\circ$$

270°

(4)



$$360^\circ - (90^\circ + 45^\circ + 10^\circ) = 215^\circ$$

215°