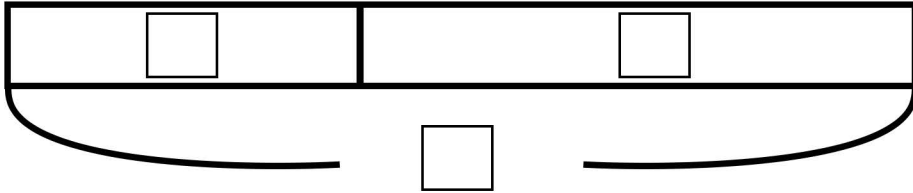


図をつかって考えよう①

名前

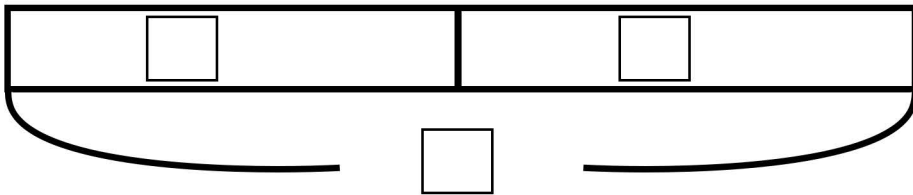
- (1) 砂場で14人の子どもが遊んでいます。そこへすべり台から何人かがやってきました。今、砂場には34人で遊んでいます。滑り台から砂場にきたのは何人でしょうか？



【しき】

【答え】

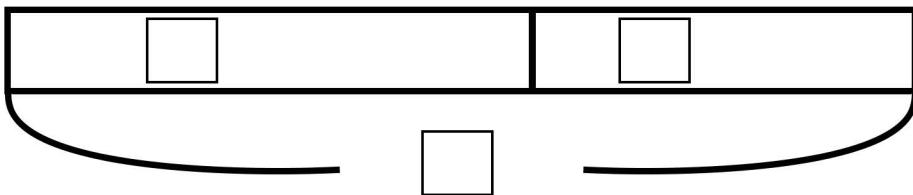
- (2) 目黒くんはカードを13枚持っています。さらに先生からカードをもらいました。手元にあるカードを数えたら25枚ありました。先生からもらったカードは何枚ですか？



【しき】

【答え】

- (3) バケツに45dlの水が入っています。そこに追加で水を入れました。バケツの中を確認したら中身は60dlになりました。バケツに追加で入れた水は何dlですか？



【しき】

【答え】