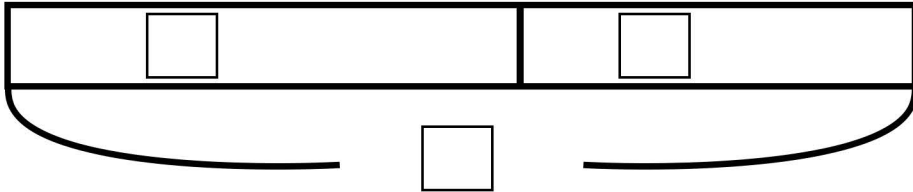


図をつかって考えよう②

名前

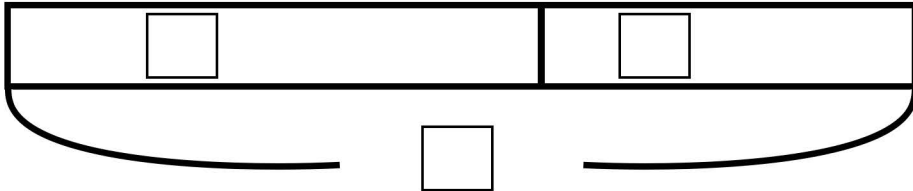
- (1) 本だなにマンガが18さつあります。お姉ちゃんがその本だなに小説を何さつかしました。本だなの本を数えたら30さつありました。お姉ちゃんは本だなに小説を何さつしましたか？



【しき】

【答え】

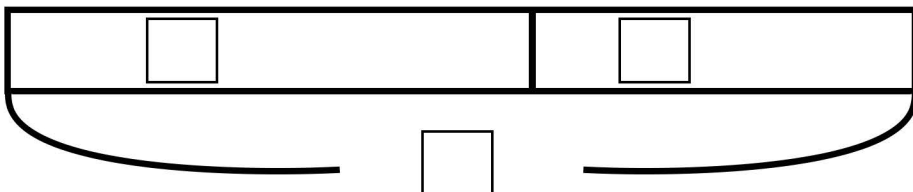
- (2) ある日。久保さんは魚を22匹釣りました。翌日も釣りに行き何匹か釣りあげました。この二日間で合計33匹釣りました。二日目は何匹釣りましたか？



【しき】

【答え】

- (3) ニンジンが袋に42本入っています。多田くんが袋に何本かのニンジンを入れました。今、袋の中には54本のニンジンがあります。多田くんは何本のニンジンをもってきましたか？



【しき】

【答え】