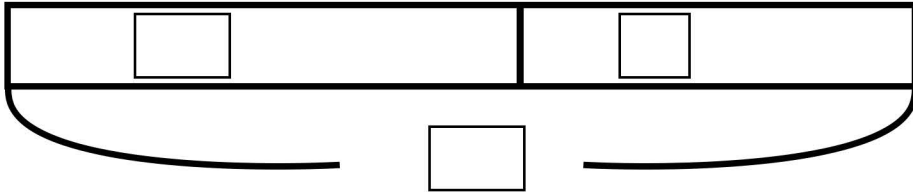


図をつかって考えよう③

名前

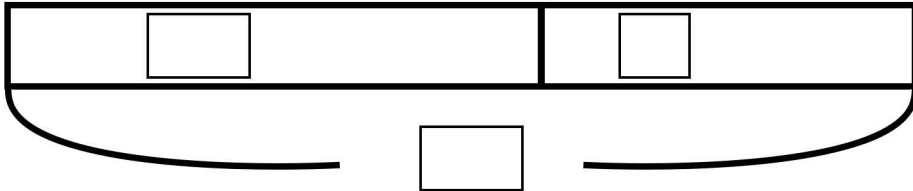
- (1) 公園で100人が遊んでいます。1時間後何人かがお家へ帰りました。
 そして、公園には65人がいます。
 お家に帰ったのは何人でしょうか？



【しき】

【答え】

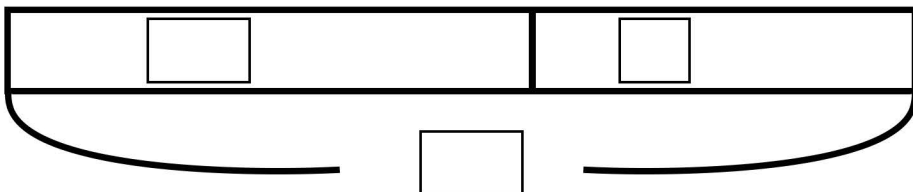
- (2) 体育館にマシュマロが500こあります。2年生の生徒たちがやってきて
 何かマシュマロを食べました。次に1年生が来たときは
 150こしかありませんでした。2年生はマシュマロを何か食べましたか？



【しき】

【答え】

- (3) 山に180本の木が生えています。今年の夏に何本かの木を植えました。
 植えた後に木を数えてみると、255本になっていました。
 今年の夏に植えた木は何本ですか？



【しき】

【答え】