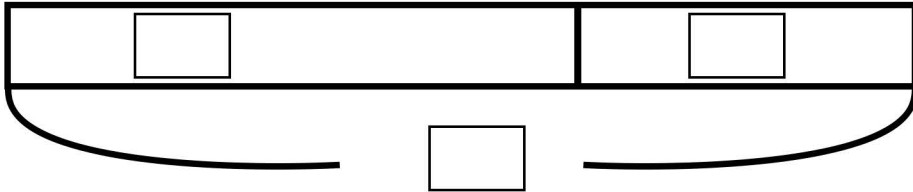


図をつかって考えよう④

名前

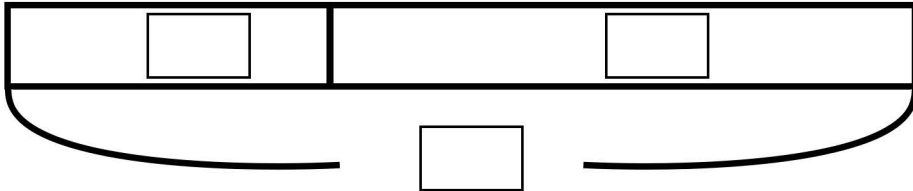
- (1) アメが何こかあります。70人に1つずつくばったのでのこりは30こになりました。
はじめにアメは何こありましたか？



【しき】

【答え】

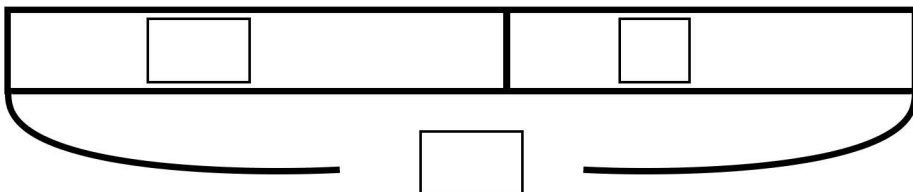
- (2) 親子丼が何こかはこばれてきました。50人が親子丼を食べたので残りは130こになりました。食べ始める前には何この親子丼がありましたか？



【しき】

【答え】

- (3) まさるくんは、石を59こポケットに入れていました。さらにポケットに石を入れました。お家につくとポケットに100この石がありました。まさるくんがつかで入れた石は何こでしょう。



【しき】

【答え】