

角の大きさ

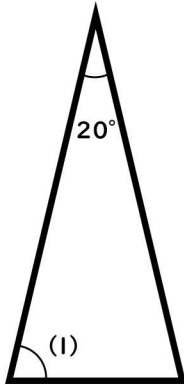
④

名前

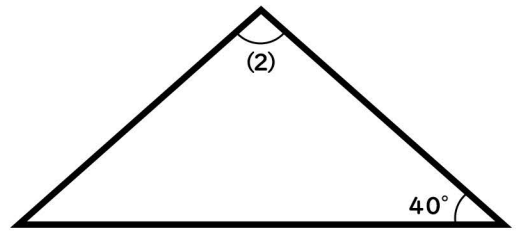
次の二等辺三角形の角の大きさを求めましょう

※問題は計算で角度を求めるように作成しているため、分度器で測ると数字が違います。

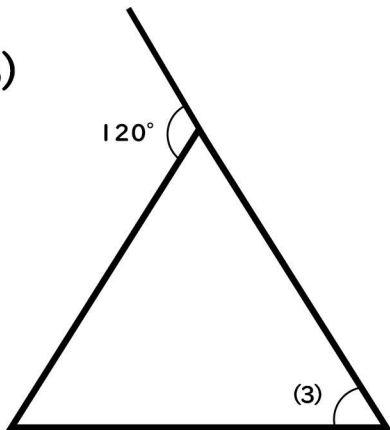
(1)



(2)



(3)



(4)

