

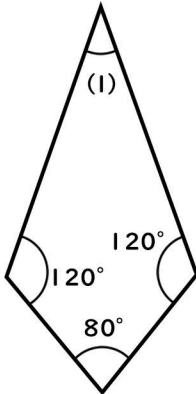
# 角の大きさ ⑥

名前

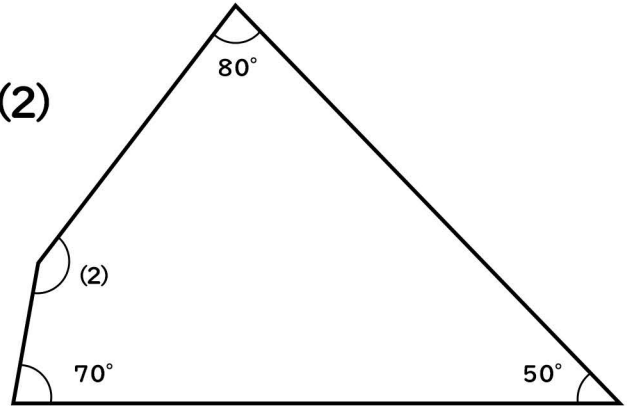
次の角の大きさを求めましょう

※問題は計算や定理などで角度を求めるように作成しているため、分度器で測ると数字が違います。

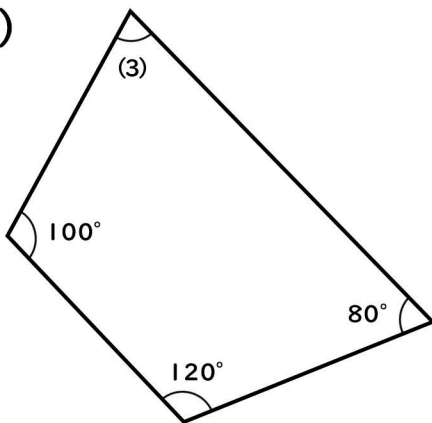
(1)




(2)




(3)




(4)

