

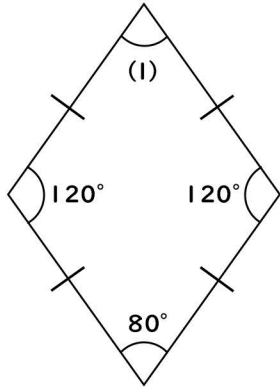
角の大きさ ⑦

名前

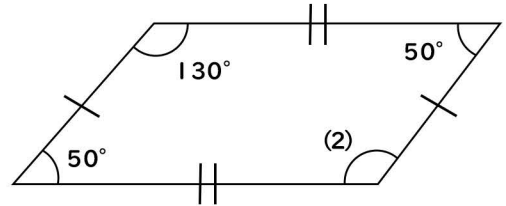
次の角の大きさを求めましょう

※問題は計算や定理などで角度を求めるように作成しているため、分度器で測ると数字が違います。

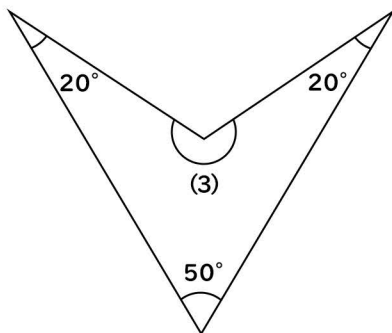
(1)



(2)



(3)



(4)

